



	くみ	ばん
名まえ		

5月20日にてい出

さんすうの学しゅうにひつようなもの

- ・さんすうドリル
- ・さんすうのきょうかしよ
- ・けいさんドリル
- ・けいさんドリルノート

なかなか学校でおべんきょうができないので、このドリルをつかって、さんすうのおべんきょうをします。

じぶん一人でできるようにつくってあるので、じぶんでできるようにしましょう。

(わからないときはきょうかしよにヒントがあります。)

さんすうの学しゅうは、1日でたくさんやるのではなく、まい日すこしずつやるようにしましょう。

まるつけは、先生がします。



# ずをつかってかんがえよう①

1年 下 p 56



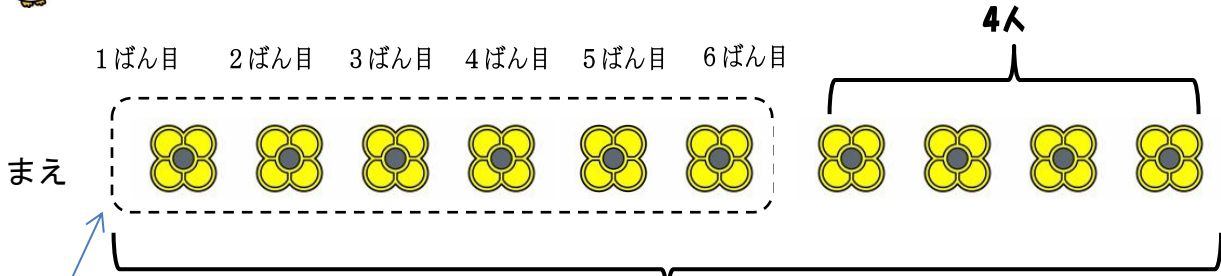
アヒル先生 のしつもん に こたえて よしゅうマスターに なろう!


1 ひろしさんは、まえから 6ばん目に います。ひろしさんの うしろに 4人います。 みんなで なん人 いますか。

◎ おはじきを ならべて かんがえました。



ひろしさんは どの  かな。赤まるで かこもう。




 の 中には なん人 いるかな。  
こたえ  人



人



に かずを かこう。



 を ○におきかえて つづきを かいてみよう。



かいた ずを もとに、 しきと こたえを かこう。

人

しき

こたえ \_\_\_\_\_

# ずをつかってかんがえよう②

名まえ

1年 下 p 57



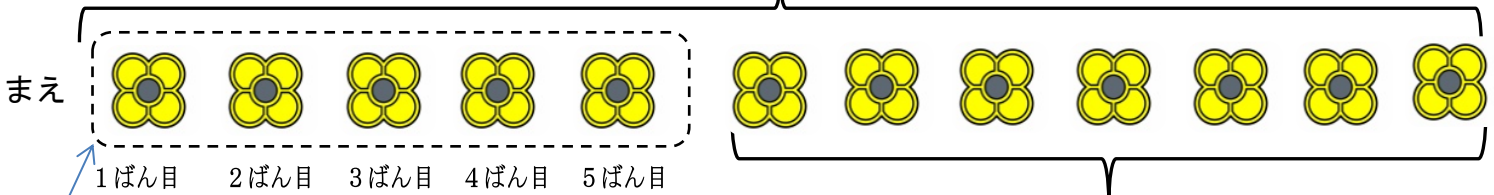
アヒル先生 のしつものに こたえて よしゅうマスターに なるう!

2 きしゃに 12人 のって います。みかさんは、まえから 5ばん目に います。みかさんの うしろには なん人 いますか。



- ① みかさんは どの  かな。赤まるで かこもう。
- ② 下の ( ) に かずを かこう。

( ) 人



[ ] 人




[ ] の 中には  
なん人 いるかな。

こたえ [ ] 人



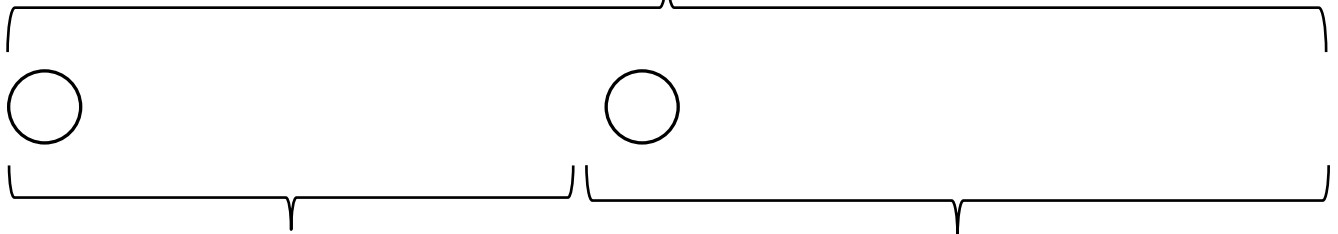
[ ] に かずを  
かこう。



①  を ○におきかて  
つづきを かいてみよう。

② ( ) や [ ] に  
かずを かこう。

( ) 人



( ) 人

[ ] 人



かいた ずを もとに、  
しきと こたえを かこう。

しき

こたえ

# ずをつかってかんがえよう③

名まえ

1年 下 p 58

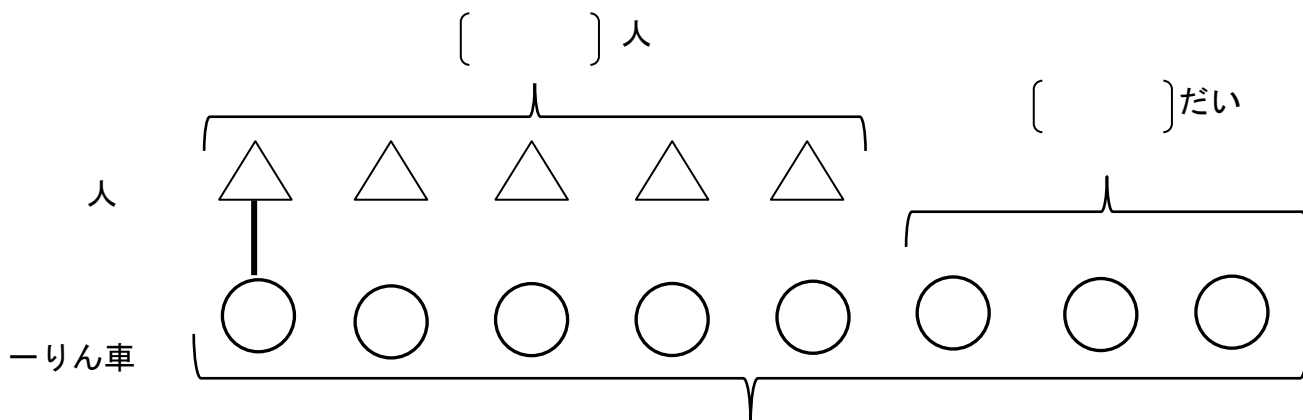


アヒル先生 のしつものに こたえて よしゅうマスターに なろう!

- 3 5人が ーりん車に のって います。ーりん車は、あと3だい あります。  
ーりん車は、ぜんぶで なんだい ありますか。



( ) や □ に  
かずを かこう。



△と○を せんで  
むすぼう。

□

だい



ずの どこが こたえに  
なるのかな。赤で かこもう。

人が のっている ーりん車は □ だいだね。



しきと こたえを かこう。

しき

こたえ

# ずをつかってかんがえよう④

名まえ

1年 下p59

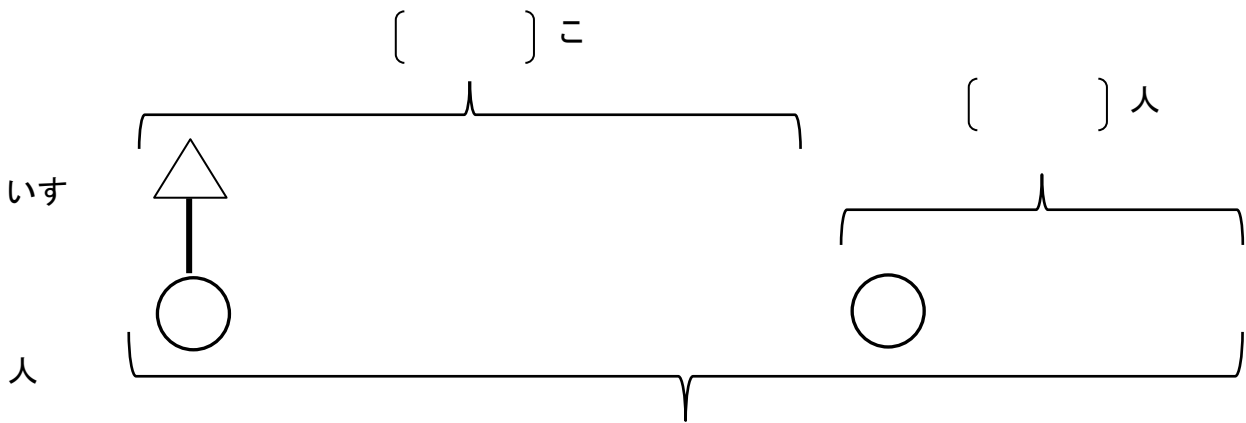


アヒル先生 のしつものに こたえて よしゅうマスターに なろう！

4 いすが 6こ あります。9人で いすとリゲームを します。  
いすに すわれない 人は なん人ですか。



- ① ( ) や  に かずを かこう。
- ② ずの つづきを かこう。



△と○を せんで  
むすぼう。

人



ずの どこが こたえに  
なるのかな。赤で かこもう。

いすに すわれる 人は  人だね。



しきと こたえを かこう。

しき

こたえ

# ずをつかってかんがえよう⑤

名まえ

1年 下p60

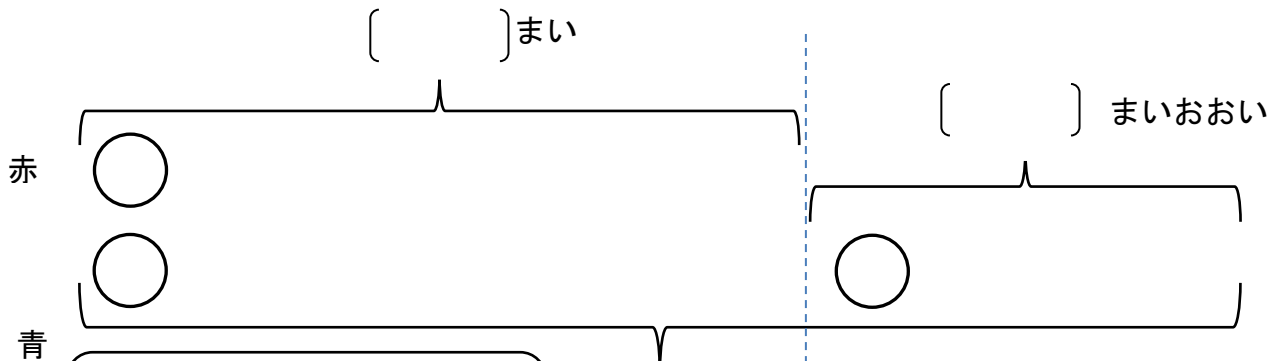


アヒル先生 のしつもん に こたえて、しきと こたえを かこう。

5 赤いかみが 7まい あります。青いかみは、赤いかみより 5まいおおいそうです。  
青いかみは なんまい ありますか。



- ① ( ) や  に かずを かこう。
- ② ずの つづきを かこう。



青い かみの かずだけ  
いろを ぬろう。

まい

しき

こたえ

6

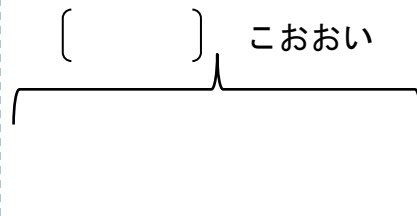
りんごを 9こ かいしました。みかんは、りんごより 4こ おおく かいしました。  
みかんは なんこ かいしましたか。



( ) に かずと ずの つづきを かこう。



しき



こたえ

# ずをつかってかんがえよう⑥

名まえ

1年 下 p 6 1



アヒル先生 のしつもん に こたえて、しきと こたえを かこう。

7 ゆみさんと たかしさんは、おはじきとりを しました。  
 ゆみさんは 12こ とりました。たかしさんは、ゆみさんより 4こ すくなくったそうです。  
 たかしさんは なんこ とりましたか。

- ① ( ) や  に かずを かこう。  
 ② ずの つづきを かこう。



[ ] こ

ゆみ	<input type="text"/>	<input type="text"/>	<input type="text"/>	<input type="text"/>	<input type="text"/>
たかし	<input type="text"/>	<input type="text"/>	<input type="text"/>	<input type="text"/>	<input type="text"/>

こ

[ ] こすくない

しき

こたえ

8

玉入れを しました。赤ぐみは 13こ 入りました。白ぐみは、赤ぐみより  
 6こ すくなくったです。  
 白ぐみは なんこ 入りましたか。



( ) に かずと ずの つづきを かこう。

赤

白

<input type="text"/>	<input type="text"/>	<input type="text"/>	<input type="text"/>	<input type="text"/>	<input type="text"/>
----------------------	----------------------	----------------------	----------------------	----------------------	----------------------

[ ] こすくない

しき

こたえ



まとめを なぞろう

まとめ

ずにかくと、どんな しきに  
 なるか わかりやすい。



# ずをつかってかんがえよう⑦

名まえ

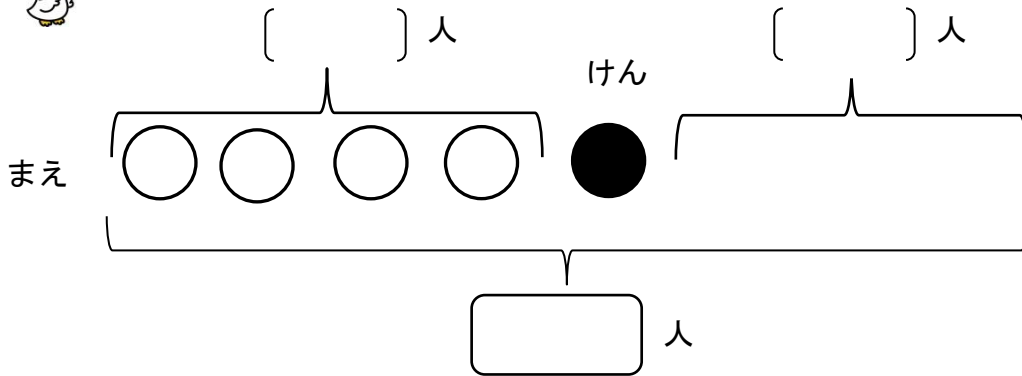
1年 下 p 62・63



アヒル先生 のしつもん に こたえて、しきと こたえを かこう。

9 バステいに 人が ならんでいます。けんさんの まえに 4人 います。けんさんの うしろに3人います。  
ぜんぶで なん人 ならんで いますか。

- ① ( ) や  に かずを かこう。
- ② ずの つづきを かこう。



しき

こたえ



下の ふたりの ともだちは どんな じゅんに たしているかな。  
せつめいの つづきを かこう。

<まこと>

しき  $4+3+1=8$   
こたえ 8人

さいしよに まえの



ヒントはきょうかしよ  
にかいてあるよ。(1年  
下P.63)

<りえ>

しき  $4+1+3=8$

こたえ 8人

さいしよに まえの



まとめを なぞろう

まとめ

しきを 見ると かんがえが  
わかる。